

۱۴۰۱/۱۰/۱۰

آزمون ریاضی  
پایه دوم مدرسه نامجو (۱)

نوبت اول

نام و نام خانوادگی :

۱ - جاهای خالی را کامل کنید .

۳ دسته ده تایی به اضافه ی ۵ دسته ده تایی میشود ..... ده تایی .

$$\dots + \dots = \dots$$

۸ دسته ی ده تایی منهای ۲ دسته ده تایی میشود ..... ده تایی

$$\dots + \dots = \dots$$

۴۵ یعنی ..... یکی ..... ده تایی .

۲- با کارت ۹ و ۷ عدد های دو رقمی بنویسید

با رقم های ۵ و ۴ و ۷ عدد های دو رقمی بنویس

عدد ۹۴ چند رقم دارد ..... رقم های آن را بنویس .....

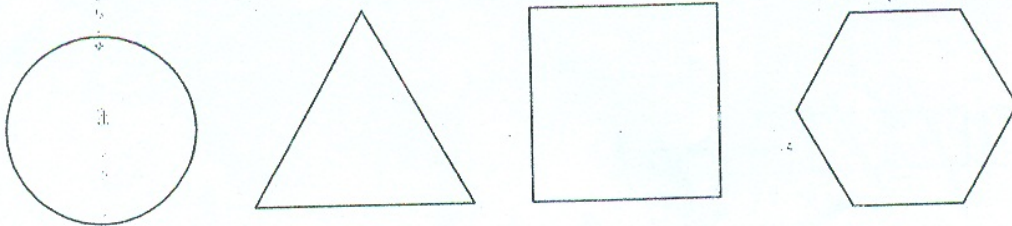
۳- عدد های دو رقمی که یکان آن ۲ و ۳ و دهگان آن ۴ و ۹ باشد (به روش شاخه ای)

۴- جمع و تفریق های زیر را با توجه به روشی که خواسته شده است حل کنید .  
تقریب :

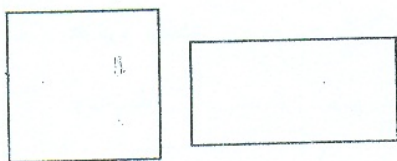
۲۵	۷۸	۷۱ →	۳۹ →
<u>+ ۲۷</u>	<u>- ۴۹</u>	<u>- ۲۴</u>	<u>+ ۲۵</u>

فرآیندی :

۵- خط تقارن اشکال زیر را رسم کنید .



۶- تفاوت و شباهت اشکال زیر را بنویسید



تفاوت :

شباهت :



۱۴۰۱/۱۰/۱۰

آزمون ریاضی  
پایه دوم مدرسه نامجو (۱)

نوبت اول

نام و نام خانوادگی :

۷- الگوی زیر را ادامه دهید .

۵, ۹, , , , ,  
, , , , ۴۰, ۴۵

۸- زمان های زیر را روی هر ساعت نشان دهید .



۷:۴۰



..... : .....



..... ربع یا .....




..... نیم یا .....

۹- مریم ۳۴ صدف دارد برادرش علی ۱۵ صدف دیگر به او داد . حالا مریم چند صدف دارد ؟

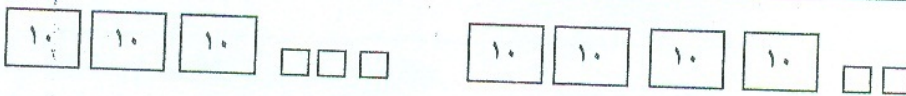
جزوه سیپی

$18 - 5 + 2 =$

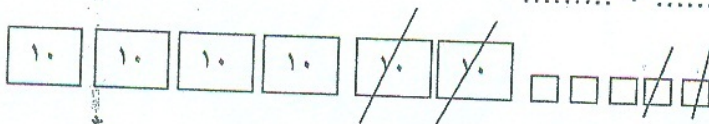
۱۰- محور زیر را کامل کنید .



۱۱- کامل کنید .



..... + ..... = .....



..... - ..... = .....

۱۲- با عدد و حروف بنویسید .

۶۴ ..... ۴۹ .....

هفتاد و هشت .....

نود و نه .....